

Mnożenie przez 2

Nazwa: _____

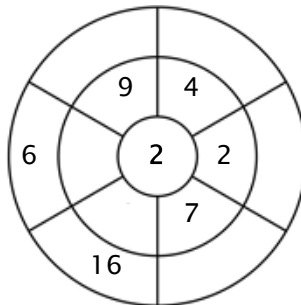
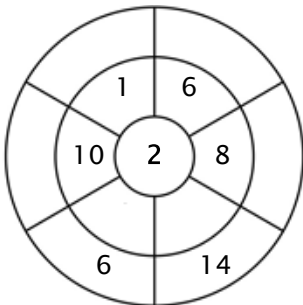
Ćwiczenie 1:

Pokoloruj wszystkie pola, które są rozwiązaniami tej tabliczki mnożenia.

14	2	16	17	18
4	25	6	4	20
10	10	21	19	3
5	12	23	9	14
20	3	11	8	37

Ćwiczenie 2:

Aby uzyskać liczby zewnętrzne, uzupełnij okrąg mnożąc liczbę w środku przez pierścień środkowy.



Ćwiczenie 3:

Wpisz właściwy produkt.

a) $2 \times 3 = \underline{\quad}$

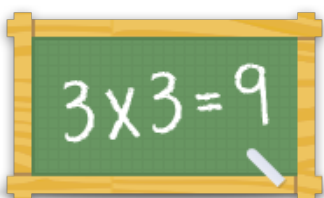
b) $2 \times 4 = \underline{\quad}$

c) $2 \times 5 = \underline{\quad}$

d) $2 \times 9 = \underline{\quad}$

e) $2 \times 6 = \underline{\quad}$

f) $2 \times 1 = \underline{\quad}$



Więcej arkuszy, gier i ćwiczeń:

www.tabliczkamnozenia.pl