

Mnożenie przez 10

Nazwa: _____

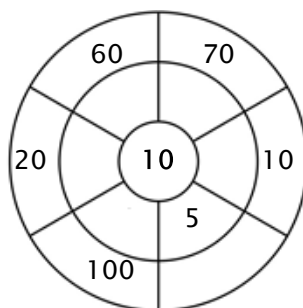
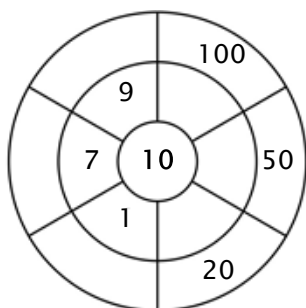
Ćwiczenie 1:

Pokoloruj wszystkie pola, które są rozwiązaniami tej tabliczki mnożenia.

20	30	40	142	67
33	22	80	70	60
70	30	10	80	22
36	100	40	84	50
100	10	20	90	95

Ćwiczenie 2:

Aby uzyskać liczby zewnętrzne, uzupełnij okrąg mnożąc liczbę w środku przez pierścień środkowy.



Ćwiczenie 3:

Wpisz właściwy produkt.

a) $10 \times 4 = \underline{\quad}$

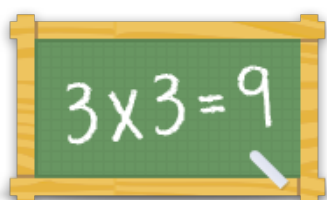
b) $10 \times 7 = \underline{\quad}$

c) $10 \times 8 = \underline{\quad}$

d) $10 \times 2 = \underline{\quad}$

e) $10 \times 3 = \underline{\quad}$

f) $10 \times 9 = \underline{\quad}$



Więcej arkuszy, gier i ćwiczeń:

www.tabliczkamnozenia.pl