

Mnożenie przez 8

Nazwa: _____

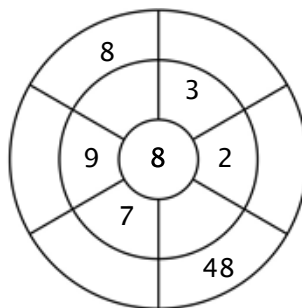
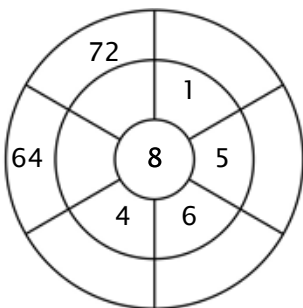
Ćwiczenie 1:

Pokoloruj wszystkie pola, które są rozwiązaniami tej tabliczki mnożenia.

24	16	32	11	65
40	55	55	7	1
8	64	95	80	22
33	32	16	48	21
40	64	8	45	56

Ćwiczenie 2:

Aby uzyskać liczby zewnętrzne, uzupełnij okrąg mnożąc liczbę w środku przez pierścień środkowy.



Ćwiczenie 3:

Wpisz właściwy produkt.

a) $8 \times 6 =$ _____

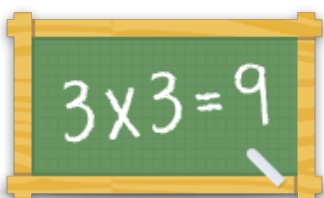
b) $8 \times 3 =$ _____

c) $8 \times 1 =$ _____

d) $8 \times 10 =$ _____

e) $8 \times 9 =$ _____

f) $8 \times 8 =$ _____



Więcej arkuszy, gier i ćwiczeń:

www.tabliczkamnozenia.pl